

**Муниципальный этап  
Всероссийской олимпиады школьников  
по истории  
2025/2026 учебного года**

**Комплект заданий для 7 классов**

**Уважаемый участник олимпиады!**

Перед Вами задания по истории. Они соотнесены с содержанием школьной программы по истории.

Вам предлагается 10 заданий, максимальный балл за выполнение которых составляет 70.

Обратите внимание: за выполнение каждого задания Вы получите различное количество баллов, поскольку степень сложности заданий также различна.

Есть задания, которые требуют напряжения памяти и точных конкретных ответов на вопросы. Есть задания творческого характера, для выполнения которых требуется умение логически мыслить, делать выводы, строить умозаключения.

Если Вам кажется, что задания относятся к теме, не очень хорошо Вам знакомой, не теряйте самообладание. Достаточно проявить внимание и сообразительность, которые помогут успешно справиться с заданием.

После выполнения всех предложенных заданий еще раз удостоверьтесь в правильности выбранных ответов и решений.

**Закончив выполнение заданий, внимательно перенесите ответы в бланк ответов!** Бланки заданий можно использовать как черновик! Проверяется только бланк ответов, текст заданий и черновики не проверяются!

Если требуется корректировка ответа, то неправильный ответ нужно зачеркнуть, а рядом вписать новый правильный ответ. **Пишите разборчиво.**

**Максимальная оценка – 70 баллов  
Время на выполнение заданий – 120 минут**

**Желаем успеха!**

**Задание 1. Выберите один правильный ответ в каждом вопросе (1 балл за каждый правильный ответ, максимальный балл – 3).**

1.1. Укажите русского князя, заключившего договор с Византией в 911 году.

- 1) Владимир Святославич
- 2) Рюрик
- 3) Олег Вещий
- 4) Игорь Рюрикович
- 5) Святослав Игоревич

1.2. Укажите дату Крещения Руси.

- 1) 980 г.
- 2) 862 г.
- 3) 1015 г.
- 4) 988 г.
- 5) 972 г.

1.3. Укажите название первого свода письменных законов на Руси, сформировавшегося в XI – XII вв.

- 1) Русская правда
- 2) Устав о резах и закупах
- 3) Правда Ярославичей
- 4) Правда Ярослава
- 5) Поучение Владимира Мономаха

**Задание 2. Выберите из списка все верные ответы и запишите через запятую соответствующие цифры (3 правильных ответа, 2 балла за каждый правильный ответ, максимальный балл – 6).**

Ниже представлены плакаты времен Великой Отечественной войны. Выберите из списка все верные суждения об этих плакатах.


1)



2)



3)





- 1) Все плакаты созданы в 1945 году
- 2) Плакат № 2 свидетельствует о проведении наступательных операций Красной Армии
- 3) В период создания плаката № 2 советский народ был твердо уверен в победе над фашистами
- 4) Плакат № 3 был создан после вступления Красной армии в столицу фашистской Германии
- 5) Все три плаката созданы одним художником.
- 6) Плакат № 1 был создан в период, когда советские войска приступили к освобождению территории СССР от фашистских захватчиков

**Задание 3. Рассмотрите иллюстрации, прочитайте текст и ответьте на вопросы (1 балл за правильный ответ на вопрос № 1; 2 балла за полный правильный ответ на вопрос № 2; 3 балла за полный правильный ответ на вопрос № 3; максимальный балл – 6).**



1)



2)

«В оформлении церкви Спаса Преображения живописец использовал только два цвета – охру и белила, что было нетипично для храмовых росписей тех лет. От иконописных традиций живописец отошел и в композиции. Многие фигуры художник изобразил по кругу, намеренно отказавшись от острых углов. Эффектным стилистическим приемом является передача света. Свет появляется в виде отрывочных, резких вспышек, имеющих форму белых штрихов».

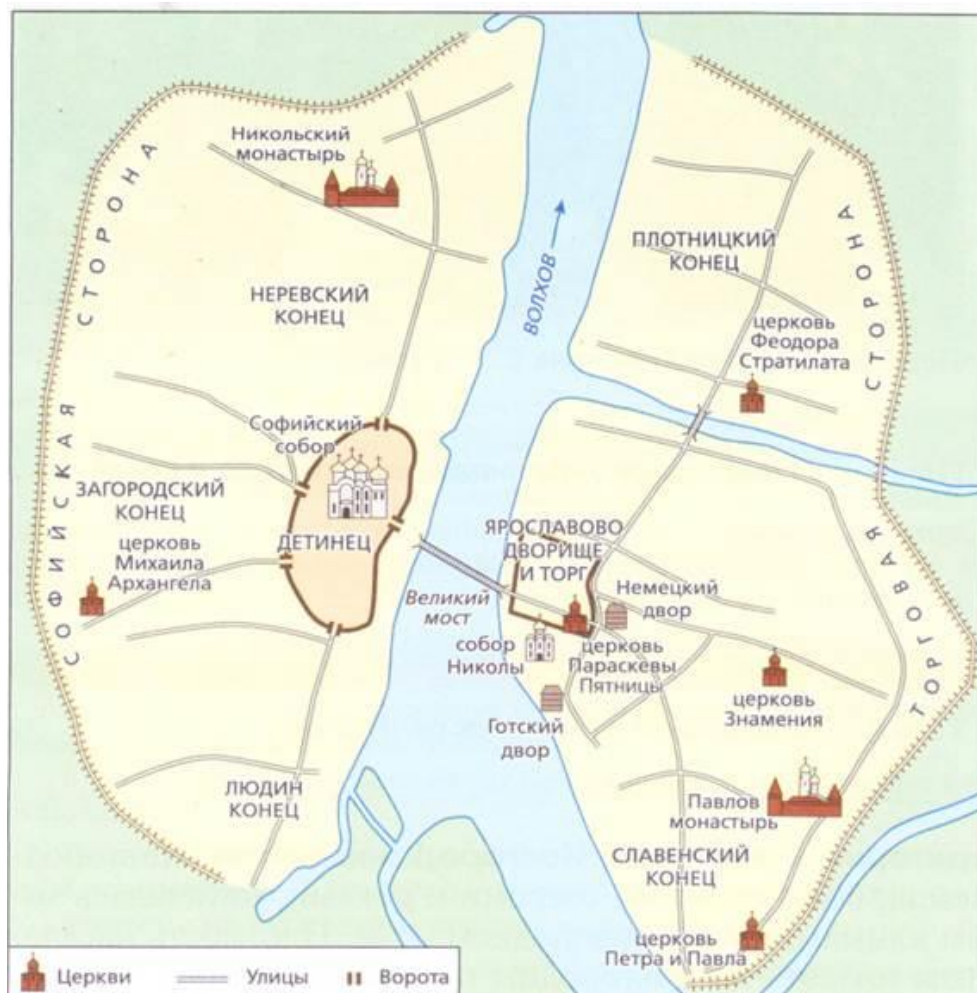
3.1. Какой сюжет представлен на обоих изображениях?

3.2. Укажите автора каждого изображения.

3.3. О каком из приведенных выше изображений идет речь в тексте? Приведите два обоснования своего мнения.

**Задание 4. Рассмотрите карту древнего Новгорода. Выберите из списка все суждения, которые подтверждаются данной схемой (2 балла за каждый верно выбранный ответ, максимальный балл – 6).**





- 1) Софийский собор расположен внутри Новгородского Кремля
- 2) Новгород был поделен на четыре конца
- 3) Новгород расположен на двух берегах реки Волхов
- 4) торговые дворы иностранных купцов располагались на Софийской стороне
- 5) Новгородский кремль назывался Кром
- 6) Ярославово дворище получило свое название от имени князя Ярослава Мудрого.

**Задание 5. Расположите исторические события в хронологической последовательности их возникновения, начиная с самого раннего (4 балла только за полную правильную последовательность, максимальный балл – 4).**

- 1) Любечский съезд князей
- 2) разорение Москвы Тохтамышем
- 3) битва на реке Калке
- 4) первое упоминание Москвы в летописях
- 5) Крещение Руси

**Задание 6. Установите соответствие между историческими событиями и деятелями. Поместите букву, которой обозначен отрывок, в соответствующую колонку таблицы, учитывая, что в одной колонке может быть от одной до трёх букв, а один из отрывков является лишним (1 балл за каждое верное соотнесение, максимальный балл – 8).**

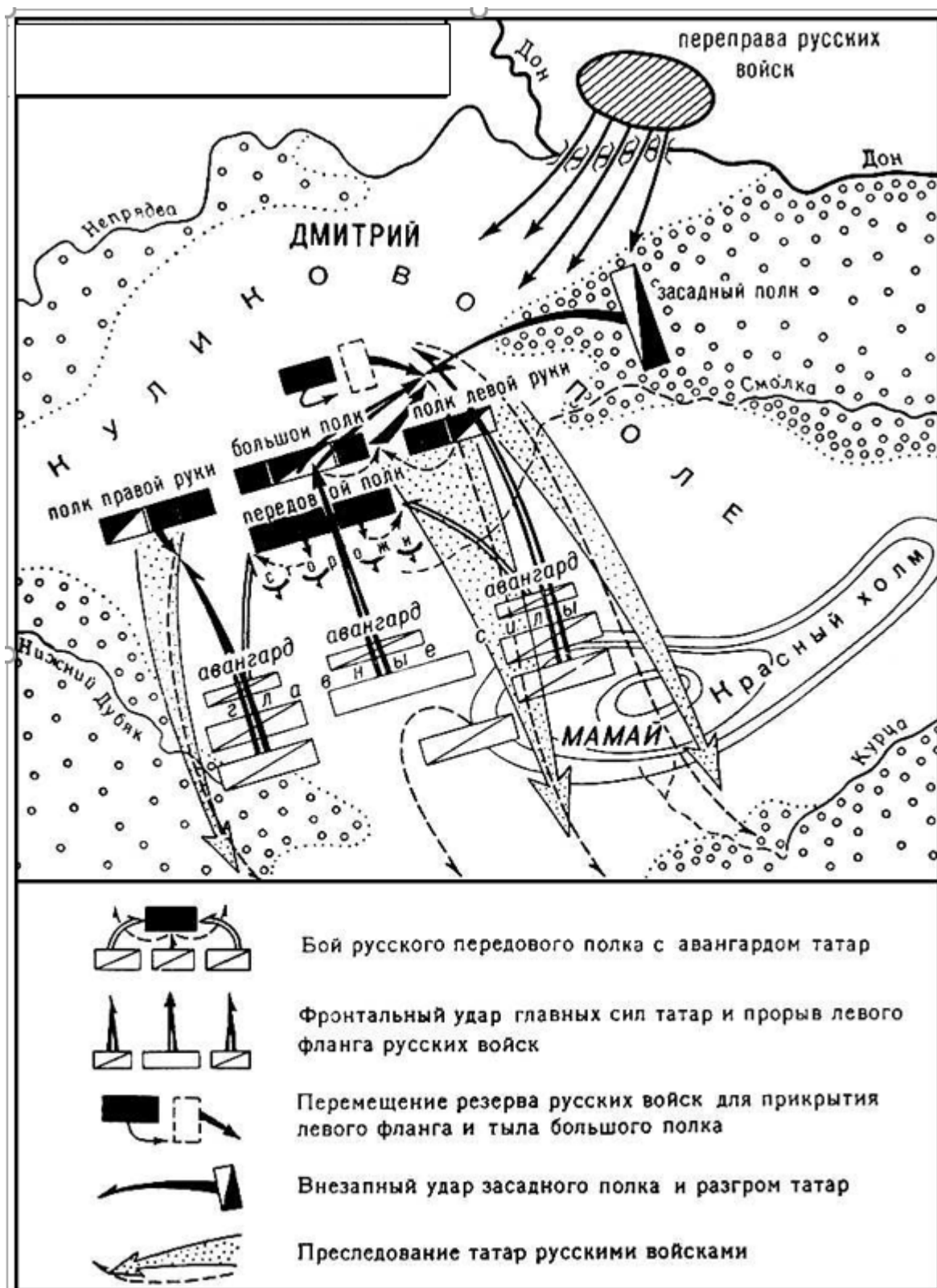
|  |   |   |
|--|---|---|
| <p>А) «Этот поход начался необычно. Когда войско подготовилось к выходу из Переяславля, то впереди него выступили священники, которые с пением вынесли большой крест. Все воины, проезжая и проходя мимо креста, получали благословение епископа. А затем на расстоянии 11 верст священники двигались впереди русского воинства. Князь, бывший вдохновителем этой войны, придавал ей характер крестового похода по образцу крестовых походов западных владетельных князей против мусульман Востока».</p> | <p>Б) «Осенью 1068 г. половцы крупными силами вторглись на территорию Переяславского княжества. Нападение застало русских врасплох: половцам удалось вклиниться вглубь Переяславского княжества, прежде чем южнорусские князья собрали войска и выступили им навстречу. Решающее сражение между русскими и половцами произошло на речке Альте, недалеко от столицы Переяславского княжества».</p> | <p>В) «В 10 утра в воскресенье 15 июля началась битва. Шведские корабли стояли вдоль русла Ижоры, шведский лагерь находился чуть дальше. Русский князь подошел к противнику с юго-востока и разделил своё войско на две группы. Первая, где были преимущественно пешие войска, ударила по силам, расположенным вдоль берега. Вторая, конная, напала на лагерь. Шведы были разгромлены».</p>   |
| <p>Г) «Победу принесла внезапность. Новгородцы имели численное превосходство, но недооценили противника, были разобщены и морально подавлены внезапной атакой москвичей. Отряд новгородского архиепископа не получил приказа вступать в бой с московским войском. Битва на Шелони внесла решающий перевес в противостояние Москвы и Новгорода».</p>  | <p>Д) «Хазары не ожидали удара с севера и не смогли организовать серьезную оборону. Достигнув хазарской столицы – Итиля, князь атаковал пытавшееся спасти её войско кагана и в жестокой битве разбил его. Далее князь предпринял поход в Северо-Кавказский регион, где разгромил опорный пункт хазар – крепость Семендер».</p>  | <p>Е) «Русские войска встали традиционным «орлом»: в центре полк, состоявший из владимири-суздальских ополченцев, по бокам – полки правой и левой руки – тяжеловооруженная новгородская пехота и конные княжеские дружины. За спиной у ополченцев был крутой берег, покрытый валунами. Перед берегом поставили сани обоза, скрепленные цепями. Это сделало берег непроходимым для рыцарских коней. У островка Вороний камень стояла в засаде конная дружина».</p> |
| <p>Ж) «По союзному соглашению с Византийской империей князь выступил в поход против Болгарского царства. Разгромив болгарское войско, он</p>   | <p>З) «Войско Ахмата появилось на берегах Угры только 8 октября. Началась перестрелка. У русских были не только луки, но и пищали. На следующий, третий и четвертый дни сражение продолжилось,</p>  | <p>И) «В результате ряда сражений под Доростолом русы потерпели поражение, и князь был вынужден заключить мир с византийцами и оставить Болгарию. Однако днепровские пороги были перекрыты печенегими, что вынудило князя зимовать в Белобережье в устье Днестра. Попытка прорваться через</p>  |

|  |   |  |
|--|---|--|
| <p>занял Переяславец – важный торговый пункт на Дунае. Затем войска князя захватили Доростол и еще несколько городов. В это время князь получил известие, что печенеги вторглись на Русь и осадили Киев. Это вынудило князя заключить с болгарами перемирие, после чего он вернулся на Русь и отбросил печенегов в степь».</p> | <p>однако проходило уже на расстоянии. Ахмат, увидев, что русские воины не собираются отступать, решил удалиться за два километра от реки и остановиться на лугах, распустив войско для сбора съестных припасов».</p> | <p>пороги окончилась гибелью князя».</p> |
|--|---|--|

| 1.                 | 2.               | 3.                | 4.       |
|--------------------|------------------|-------------------|----------|
| Святослав Игоревич | Владимир Мономах | Александр Невский | Иван III |
|                    |                  |                   |          |

**Задание 7. Рассмотрите и проанализируйте историческую карту и выполните задания (2 балла за полный правильный ответ на вопрос № 1; по 4 балла за полные правильные ответы на вопросы № 2 и № 3, максимальный балл – 10).**





7.1. Укажите название сражения. Какие реки находились в тылу русских войск? Укажите не менее двух рек.

7.2. Какие преимущества имела русская армия благодаря своему расположению? Укажите не менее двух преимуществ.

7.3. Укажите не менее двух последствий данного сражения.

**Задание 8. Прочитайте тексты и ответьте на вопросы (4 балла за полный правильный ответ на вопрос № 1; 2 балла за полный правильный ответ на вопрос № 2; 4 балла за полный правильный ответ на вопрос № 3; максимальный балл – 10).**

«Изгнали варяг за море, и не дали им дани, и начали сами собой владеть, и не было у них правды, и встал род на род, и была у них усобица, и стали воевать друг с другом. И сказали себе: «Поищем себе князя, который бы владел нами и судил по праву». И пошли за море к варягам, к руси. Сказали руси чуть, славяне, кривичи и весь: «Земля наша велика и обильна, а порядка в ней нет. Приходите княжить и владеть нами». И избрались трое братьев со своими родами, и взяли с собой всю русь, и пришли».

(Повесть временных лет)

«Легенды о трех братьях, призванных княжить в чужую страну, были очень распространены в Северной Европе в средние века. Известны легенды о призвании норманнов в Ирландию и Англию.

Было ли призвание варягов на Русь? Ответы могут быть только предположительными. Норманнские набеги на северные земли в конце IX – X веках не подлежат сомнению. Самолюбивый новгородский патриот мог изобразить реальные набеги норманнов как добровольное призвание варягов северными жителями для установления порядка. Такое освещение варяжских походов за данью было менее обидно для самолюбия новгородцев, чем признание своей беспомощности.

Могло быть и иначе: желая защитить себя от ничем не регламентированных варяжских поборов, население северных земель могло пригласить одного из конунгов на правах князя с тем, чтобы он охранял его от других варяжских отрядов».

(Рыбаков Б.А. Киевская Русь и русские княжества)

8.1. Укажите имена трех братьев, которые были призваны на княжение славянскими и финно-угорскими племенами? (3 балла). В каком году произошло это событие? (1 балл).

8.2. Почему, согласно Повести временных лет, славянские и финно-угорские племена пригласили себе князя со стороны? Укажите не менее двух причин. Ответ сформулируйте своими словами (2 балла).

8.3. Какие причины призвания варягов упоминает Б.А. Рыбаков в своей работе? Укажите не менее двух причин (2 балла). Почему современные ученые-историки считают, что невозможно точно определить причины призвания варягов на Русь? Приведите два обоснования (2 балла).

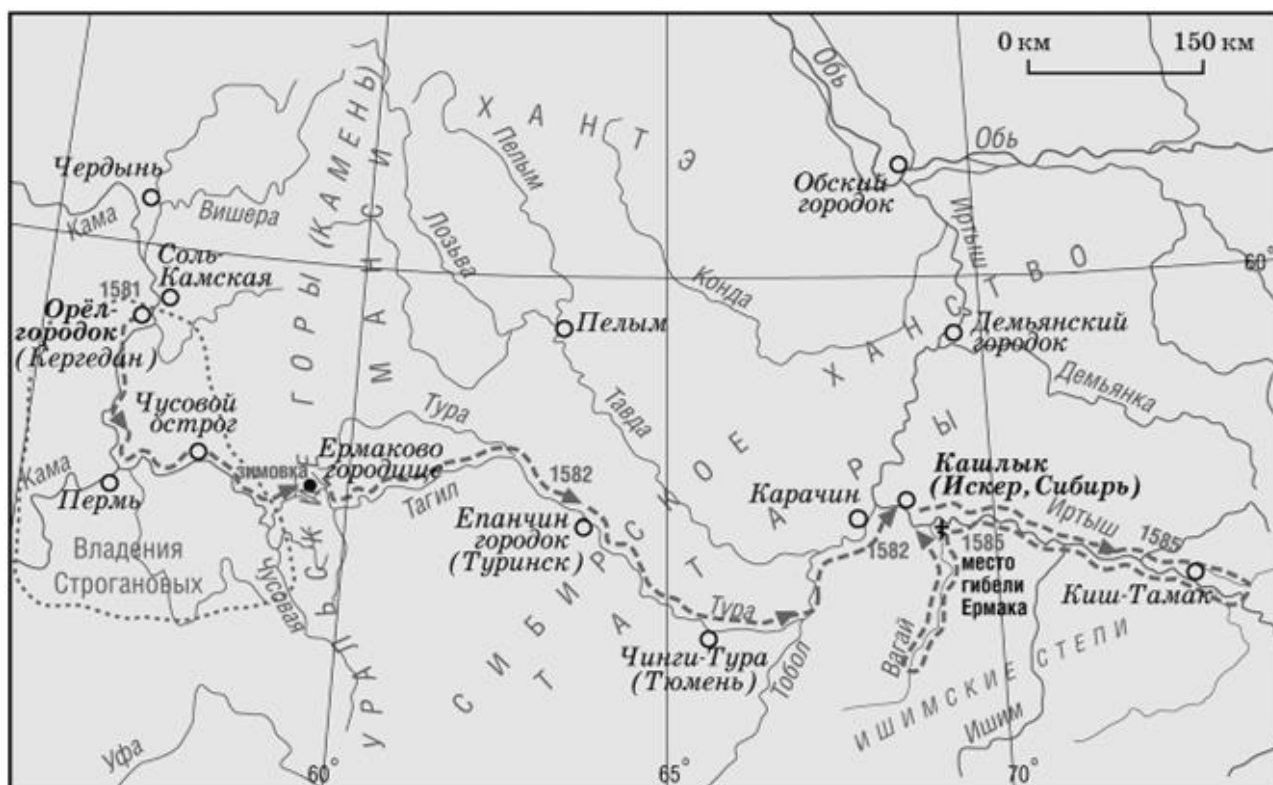
**Задание 9. Прочитайте текст, рассмотрите карту и ответьте на вопросы по истории нашего края (5 баллов за полный правильный ответ на вопрос № 1; 3 балла за полный правильный ответ на вопрос № 2; 4 балла за полный правильный ответ на вопрос № 3; максимальный балл — 12).**

Дружина Ермака отправилась в поход 1 сентября 1581 г. Казаки поднялись по реке Чусовой до устья впадающей в нее реки Серебрянки. На северо-восточном берегу Серебрянки, у устья реки Кокуй, казаки провели зиму. В 10-ти верстах от места зимовки протекала река Баранча – приток Тагила. Казаки перетащили волоком часть судов к реке Баранче, по которой доплыли до реки Тагил, и далее вошли в реку Туру.

В ходе продвижения казаков по реке Туре состоялось три сражения с отрядами хана Кучума, окончившиеся победами казаков. Первое сражение произошло в верховьях Туры у Епанчина городка, затем казаки взяли городок Чимги-тура. Третье сражение состоялось в месте впадения Туры в Тобол.

Решающее сражение между дружиной Ермака и войсками хана Кучума произошло 26 октября 1582 г. на Чувашевом мысу на правом берегу реки Иртыш, вблизи сибирской столицы г. Кашлык. Кучум сосредоточил свои войска на высоком Чувашевом мысу, укрепленном засеками. Когда струги Ермака подошли к берегу и казаки сошли на берег, татарские лучники, укрывшиеся за стволами поваленных деревьев, открыли стрельбу из луков. Казаки обстреливали укрепления противника из пушек и пищалей, но не могли нанести им существенного урона. Понимая необходимость выманить воинов Кучума на открытое место, Ермак отдал приказ об отступлении. Полководец Маметкул, командовавший татарским войском, отдал приказ организовать преследование. Ожидавшие этого казаки прекратили отступление и вступили в сражение. В завязавшейся рукопашной битве хантыйские и мансийские ополченцы стали обращаться в бегство. Командующий Маметкул был ранен, сибирское войско утратило управление, татары начали покидать поле боя. Хан Кучум оставил Кашлык и бежал.

В этот же день 26 октября 1582 г. казаки Ермака Тимофеевича вошли в Кашлык, столицу Сибирского ханства.



Карта «Поход Ермака в Сибирь».

9.1. Укажите места трех сражений дружины Ермака с отрядами хана Кучума на реке Туре (3 балла). Какие русские города были основаны на местах этих сражений? Укажите два города (2 балла).

9.2. Каковы были итоги решающего сражения дружины Ермака с войсками хана Кучума? Укажите два итога (2 балла). Какой русский город был основан вблизи места данного сражения? (1 балл).

9.3. Каковы были причины победы дружины Ермака над войсками хана Кучума? Укажите четыре причины (4 балла).

**Задание 10. Восстановите пропущенные слова в тексте (1 балл за каждый правильный ответ, максимальный балл – 5).**

Расцвет Владимиро-Суздальской земли приходится на время правления Андрея Боголюбского. Андрей превратил Владимир в крепость, окруженную широким рвом, десятиметровым валом и деревянными стенами протяженностью 7 км. Въехать в город можно было через 1) \_\_\_\_\_ ворота, которые служили мощным укреплением.

Главным культовым сооружением Владимира был 2) \_\_\_\_\_ собор, построенный в 1158-1160 гг. Находившийся на высоком берегу Клязьмы, он превзошел высотой Софию Киевскую.

В память о своем сыне Изяславе, умершем от ран после похода в Волжскую Булгарию, Андрей Боголюбский приказал построить храм 3) \_\_\_\_\_. Эта церковь замечательна своей легкостью и одухотворенностью.

Строительство церквей продолжил брат Андрея Боголюбского 4) \_\_\_\_\_. На его княжеском дворе в 1194-1197 гг. был сооружен 5) \_\_\_\_\_ собор, обильно украшенный затейливой резьбой.

**Закончив выполнение заданий, внимательно перенесите ответы в бланк ответов!**

**Проверяется только бланк ответов, текст заданий и черновики не проверяются!**